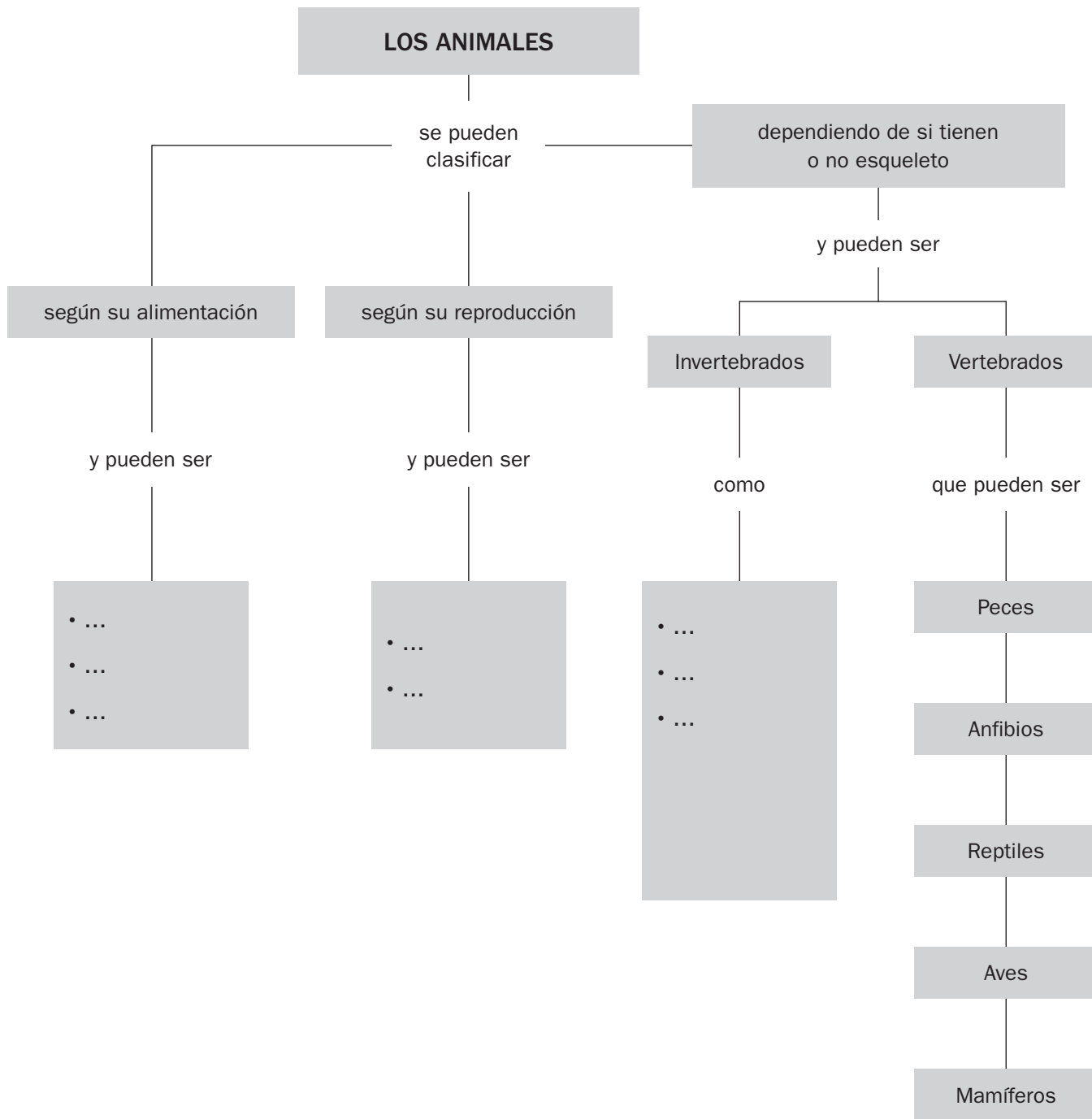
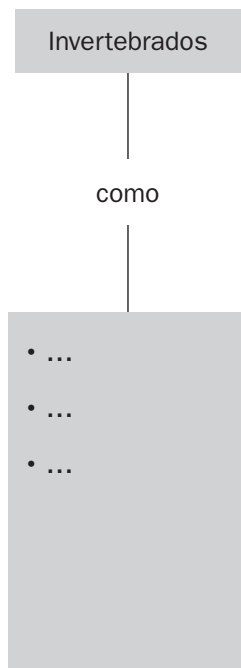


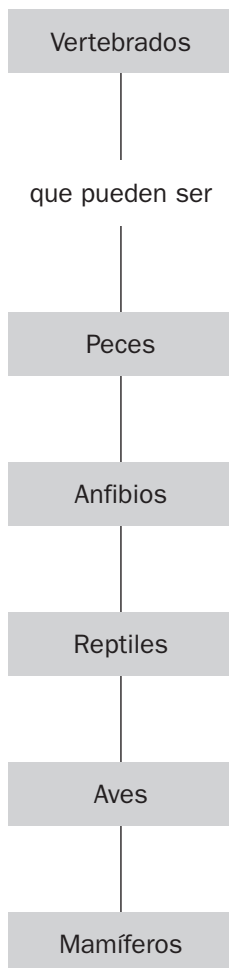
1 Completa los recuadros vacíos.



- 2 En la siguiente reproducción parcial del esquema anterior, añade ejemplos de cada uno de los grupos de invertebrados.



- 3 En la siguiente reproducción parcial del esquema anterior, añade dos características de cada uno de los grupos de vertebrados.



4 Describe y clasifica el animal que aparece en la imagen de la derecha.

.....

.....

.....

.....

.....



5 Observa el animal que aparece en la imagen y responde:

a) Nómbralo.

.....



b) ¿A qué grupo de invertebrados pertenece? Cita otros ejemplos de invertebrados de ese grupo.

.....

.....

.....

.....

c) Escribe una breve descripción del animal.

.....

.....

.....

.....