


- 1 Los peces se pueden dividir en dos grandes grupos: óseos y cartilagosos. Para reconocerlos puedes fijarte en la aleta de la cola, llamada aleta caudal. Esta aleta tiene las dos mitades de igual tamaño en los peces óseos, y de distinto tamaño en los peces cartilagosos.


Dos mitades de la aleta de distinto tamaño




Dos mitades de la aleta de igual tamaño

Clasifica los peces de las imágenes siguientes en óseos y cartilagosos.

a)



b)



c)



- 2 Investiga y nombra tres moluscos con una concha formada por dos piezas.

.....

.....

- 3 Un científico ha dicho: «un murciélago y una ballena son más similares de lo que parece». ¿Por qué crees que lo ha dicho?

.....

.....

.....

.....

