

1 Responde a las siguientes cuestiones teniendo en cuenta este plano:



a) Escribe el nombre de la calle en la cual se encuentra el Teatro Romea.

.....

b) ¿Hacia qué punto cardinal está orientada la Plaza Mayor?

.....


c) ¿En qué plaza se encuentra la catedral?

.....

d) ¿Hacia qué punto cardinal está orientado el río en este plano?

.....

2 Dibuja el plano de una cocina y sus diferentes elementos (leyenda, signos convencionales...) incluyendo elementos tales como:



- Una mesa en el oeste de la cocina.
- Coloca el frigorífico, en el norte de la cocina.
- La encimera de la cocina.
- La vitrocerámica u hornilla.
- Y otras cosas que se te ocurran.

3 Utilizando Google Maps, amplía la zona que prefieras del centro de tu localidad y escribe las diferentes calles, monumentos, plazas... que encuentres.

.....

.....

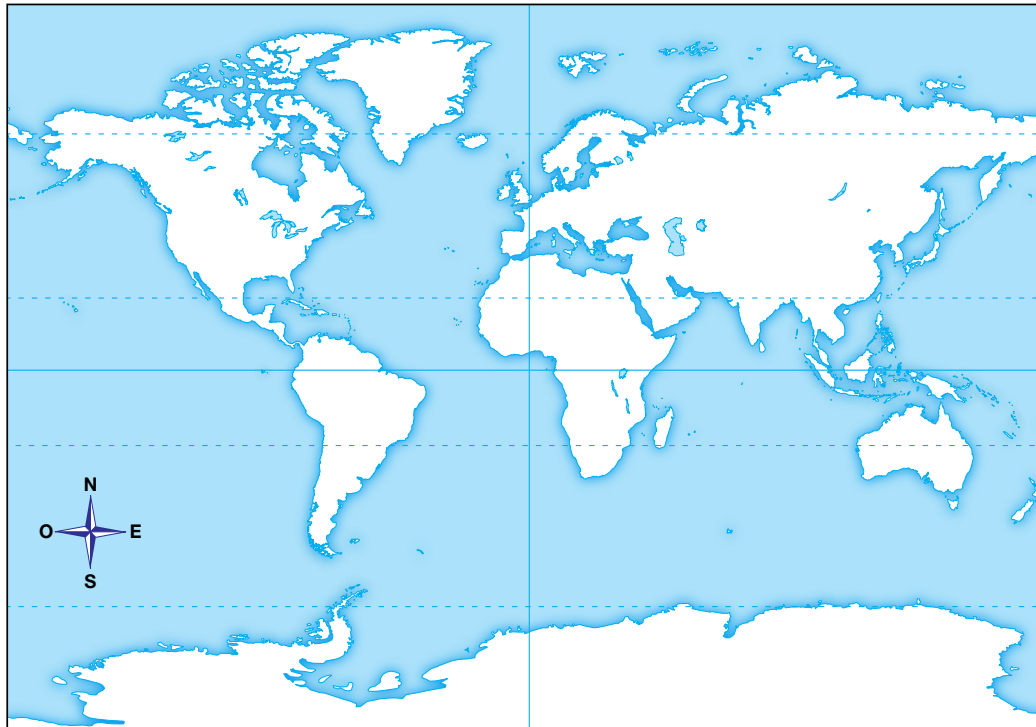
.....

4 Coloca en el siguiente mapa de España en blanco los nombres de:



- a) En el norte, dos de las comunidades autónomas que correspondan.
- b) En el sur, la comunidad autónoma que proceda.
- c) En el este, la comunidad autónoma que prefieras.
- d) Mares y océanos que la bañan.

5 En el siguiente mapa mudo, coloca los nombres de los seis continentes, los océanos, los principales paralelos, meridianos y los polos.



6 Muchas aves migran en determinadas épocas del año de unas zonas climáticas a otras. Investiga a qué es debido.

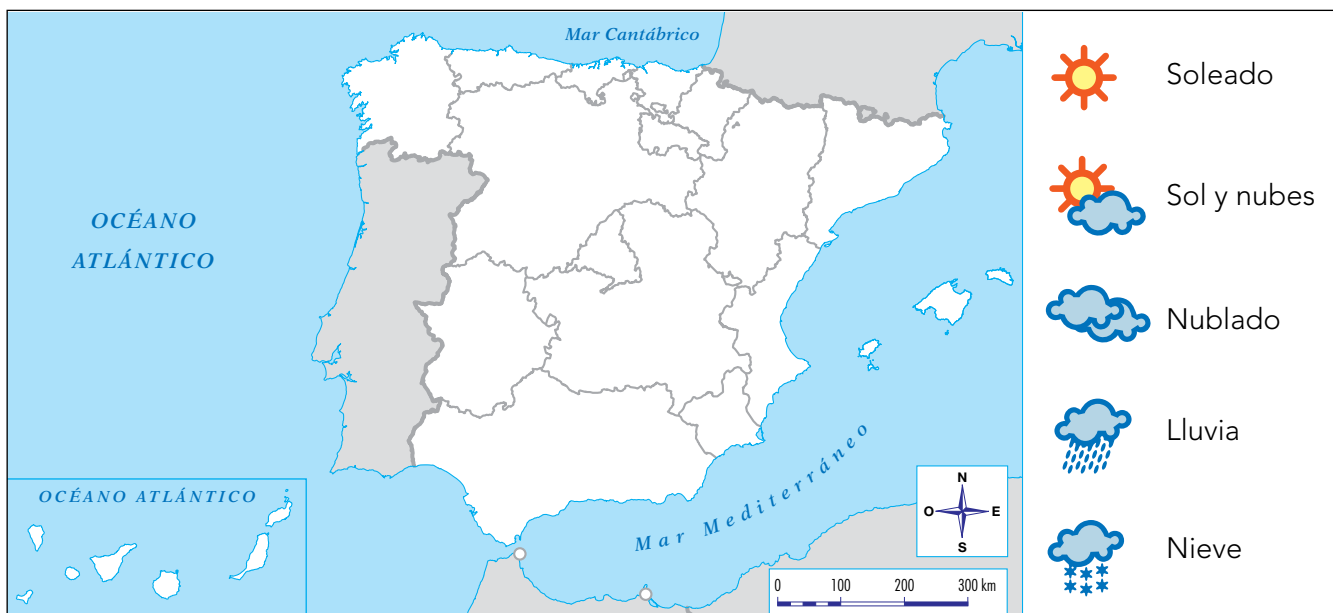
.....

.....

7 Observa la leyenda del mapa y colorea según el relieve del suelo:



8 Sigue las indicaciones y coloca en el mapa del tiempo los símbolos correspondientes:



- a) Hará un día soleado en Andalucía.
- b) Habrá sol con nubes en Extremadura, Madrid, La Rioja, Castilla-La Mancha y en Castilla y León.
- c) Habrá precipitaciones abundantes al Galicia, Asturias y Cantabria.
- d) En las islas Canarias, llluvias.
- e) Islas Baleares, soleado.
- f) Nevará en el norte de Aragón y en Navarra.
- g) Lucirá el sol en las zonas costeras del mar Mediterráneo.

9 Observa el mapa y busca la información necesaria para descubrir a qué época pertenece y qué se representa en él.



.....

.....

.....

.....

10 Imagina que viajas en coche con tu familia hacia Alemania; ¿qué países debéis atravesar?

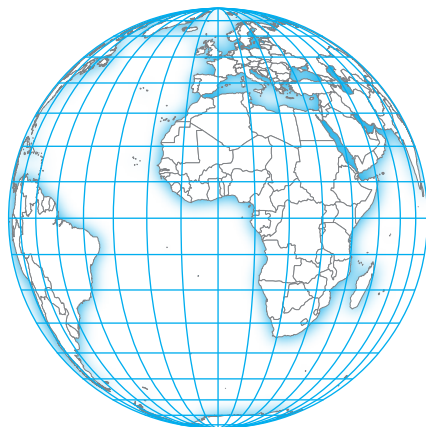


.....

.....

.....

11 En el globo terráqueo siguiente representa los elementos que puedan observarse: océanos, continentes, paralelos... ¿Puedes incluir todos los océanos y todos los continentes? Razona tu respuesta.



.....

.....

.....

.....

.....

.....