
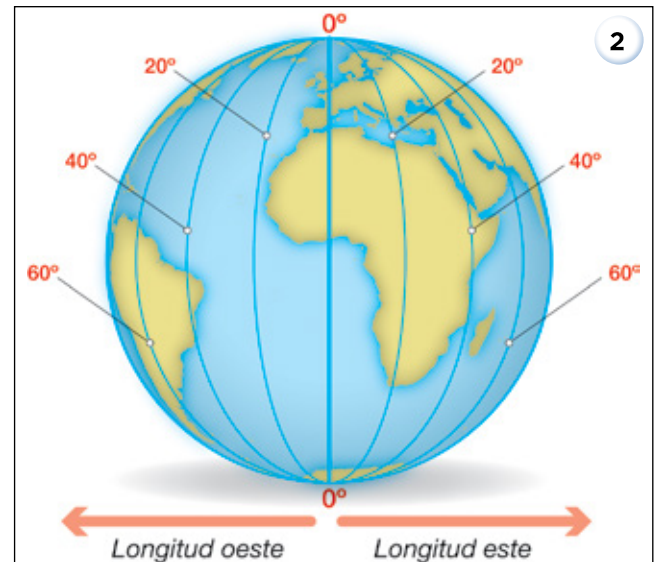
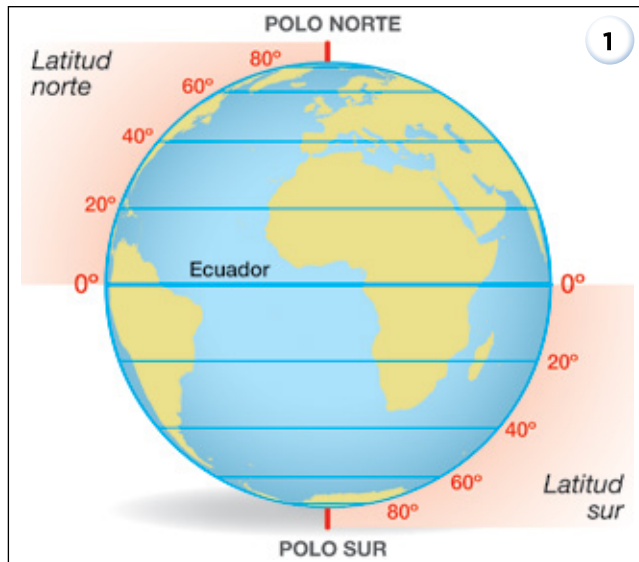


1 Escribe las siguientes palabras en el crucigrama:



- POLOS
- HEMISFERIOS
- MERIDIANO
- ECUADOR
- PARALELOS

2 Señala debajo de la imagen cómo se llaman las líneas que tiene el globo terráqueo.



.....

.....

3 Enumera los elementos de un mapa.

.....

.....

.....

.....

4 Escribe en el plano, los diferentes elementos que lo constituyen.



5 Explica qué significa que un mapa tiene una escala de 1/60 000.

.....

.....

6 ¿Qué podemos saber a través de los planos?

.....

.....

.....

.....

7 Completa la siguiente frase relacionada con la representación de la Tierra:

Los dos, el norte y el sur, son los por los que podemos imaginar que pasa el eje

8 Cita qué tipo de mapa ves en la imagen.



.....

.....

9 Marca la opción correcta que completa esta información

– Son semicircunferencias iguales dibujadas en los globos terráqueos de polo a polo. Indican la longitud o distancia al meridiano cero y se llaman...

Meridiano

Paralelo

Ecuador

10 ¿Cuáles son los tipos de mapamundi y qué información nos proporcionan?

.....

.....

.....

.....